

**3°** TERCER  
GRADO

# Conociendo Mis Logros



**MATEMÁTICA**



**ESTUDIOS SOCIALES**

Nombre:

Centro escolar:



**2023**

MINISTERIO  
DE EDUCACIÓN

## Indicaciones

Estimada y estimado estudiante:

Esta prueba tiene como propósito conocer tus logros de aprendizaje en Matemática y Estudios Sociales durante el tercer grado.

Los resultados le servirán a tu profesor o profesora, para reorientar el trabajo que se realizará durante el año 2023.

Toma en cuenta las siguientes instrucciones:




- Encontrarás varias preguntas, cada una con diferentes opciones de respuesta.
- Lee detenidamente cada pregunta.
- Selecciona y marca en este cuadernillo la opción de la respuesta correcta en cada una de las preguntas.
- Puedes trabajar con lápiz o bolígrafo.

**Recuerda regresar la prueba a tu docente cuando la hayas completado.**

**¡Haz tu mejor esfuerzo para responderla!**

# MATEMÁTICA

1 Una pastelería elaboró galletas con los siguientes diseños:

<b>Diseño</b>			
<b>Cantidad</b>	<b>3,221</b>	<b>110</b>	<b>168</b>

¿Cuántas galletas se elaboraron en total?

- A. 3,331
- B. 3,499
- C. 6,001

2 Observa los siguientes números:

6,534

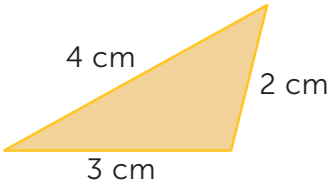
6,931

¿Cuál de las siguientes afirmaciones es correcta?

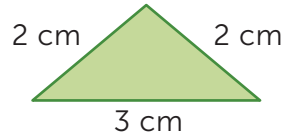
- A. 6,534 es mayor que 6,931.
- B. 6,534 es menor que 6,931.
- C. 6,534 es igual que 6,931.

3 Selecciona la opción que contenga un triángulo equilátero.

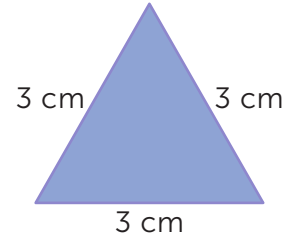
A.



B.



C.



4 En una carrera de bicicletas, la distancia a recorrer es de 1,223 metros. ¿Cuántos kilómetros y metros en total se recorrerán en la carrera?

- A. 1 km 223 m
- B. 10 km 223 m
- C. 100 km 223 m


5 En una fábrica se empacan 270 relojes cada día. ¿Cuántos relojes se empacarán en 6 días?

- A. 1,220
- B. 1,620
- C. 1,626

6

Daniel tiene 24 guineos y repartirá 4 a cada uno de sus amigos.

¿A cuántos amigos le puede repartir Daniel?



A. 4

B. 6

C. 8

7

¿Cómo se lee el siguiente número?

2,435

A. Dos cuatrocientos treinta y cinco.

B. Dos mil cuatro treinta y cinco.

C. Dos mil cuatrocientos treinta y cinco.

8

Vanessa vive en la casa número dos mil sesenta y tres.  
 Selecciona la casa donde vive Vanessa.

A.



B.

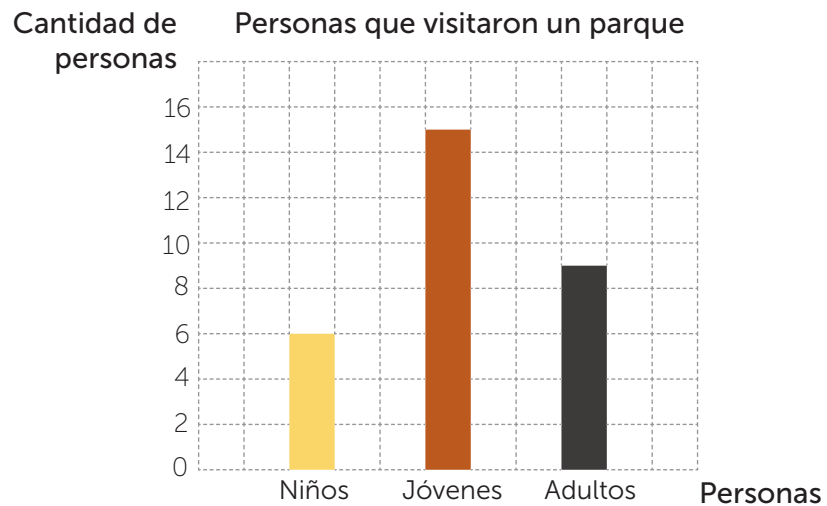


C.



9

Observa la siguiente gráfica.



Selecciona la tabla que representa la información de la gráfica.

A.

Personas	Cantidad
Niños	6
Jóvenes	14
Adultos	8

B.

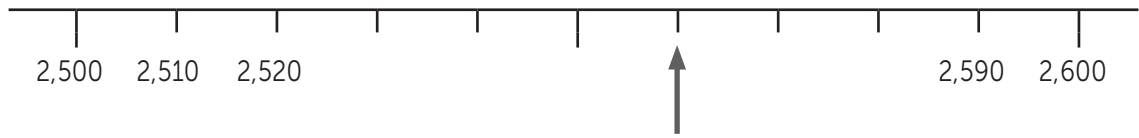
Personas	Cantidad
Niños	6
Jóvenes	15
Adultos	9

C.

Personas	Cantidad
Niños	6
Jóvenes	16
Adultos	10

10

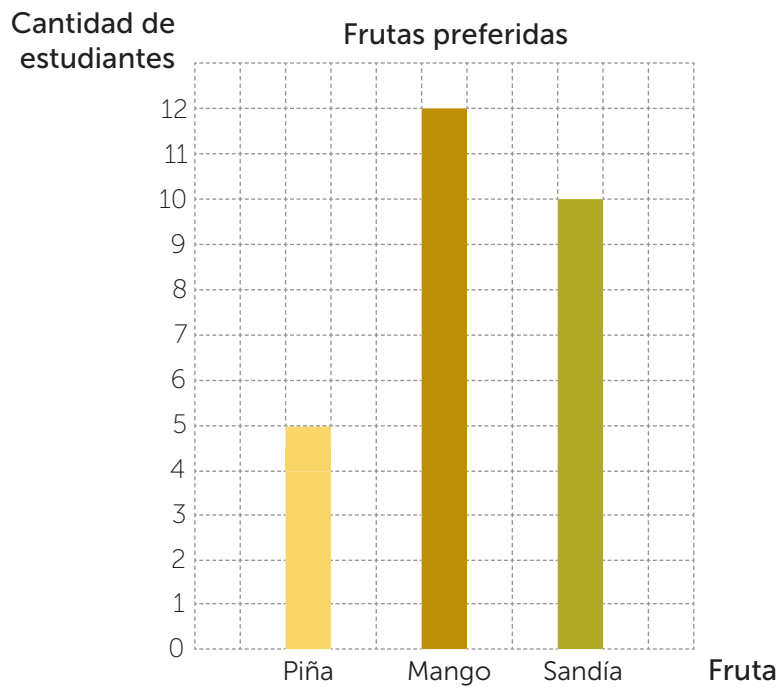
¿Cuál es el número indicado en la recta numérica?



- A. 2,550
- B. 2,560
- C. 2,570

11

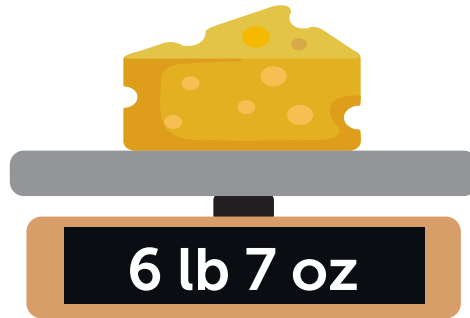
Observa la siguiente gráfica.



¿Cuál es la fruta preferida del grupo de estudiantes?

- A. Piña.
- B. Mango.
- C. Sandía.

- 12 Raquel compró 6 libras 7 onzas de queso.



¿Cuántas onzas de queso compró Raquel en total?  
Recuerda que en una libra hay 16 onzas.

- A. 96 oz
- B. 103 oz
- C. 112 oz

- 13 ¿Cuál es el resultado de  $8,143 - 5,784$ ?

- A. 2,359
- B. 2,459
- C. 3,469

- 14 ¿Cuál es el resultado de efectuar  $3,465 - 124$ ?

- A. 2,225
- B. 3,341
- C. 3,589



15 Selecciona la opción que presenta un cuadrado.

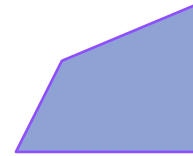
A.



B.



C.



16 ¿Cuál es el resultado de la división  $13 \div 5$ ?

- A. 2 residuo 0
- B. 2 residuo 3
- C. 3 residuo 2

# ESTUDIOS SOCIALES

1. Andrés le comentó a su mamá que en la escuela, su maestra le habló acerca de los deberes de las niñas y los niños, uno de ellos es el respeto a las personas adultas mayores, ya que aportan mucho a la familia y sociedad. Por eso, Andrés comprendió que es importante ponerlos en práctica en la familia y la comunidad.

Para respetar a las personas adultas mayores Andrés debe

- A. hacer comentarios de forma insistente.
- B. aprender a escucharlos pacientemente.
- C. ser gracioso cuando cuenten sus historias.

2. Las personas que habitan la comunidad “Loma Linda” se han presentado al parque para colaborar en una campaña de limpieza, ya que hay muchas familias que lo visitan los fines de semana.



Las acciones que llevan a cabo las personas que habitan en Loma Linda garantizan el derecho de la niñez a

- A. jugar en un medio ambiente sano.
- B. disfrutar de espacios seguros.
- C. tener espacios con aire fresco.

3. Lee el siguiente caso.

Margarita es una niña muy colaboradora y participativa, le gusta que su escuela se vea bonita y bien cuidada. En una ocasión le pidió a su familia que la acompañara a una campaña de limpieza.



La participación de la familia en las actividades del centro educativo es importante, porque

- A. obliga a los adultos a realizar labores de aseo.
- B. hace que la institución tenga una mejor apariencia.
- C. anima a las hijas e hijos a colaborar en su mejoramiento.

4.



Lucía visitó el sitio arqueológico Joya de Cerén como parte de una actividad educativa de su centro escolar. La persona guía explicó lo que está permitido hacer para el cuidado del lugar.

¿Cuál de las siguientes acciones contribuye al cuidado de los sitios arqueológicos?

- A. Excavar en el lugar para encontrar más piezas antiguas.
- B. Ver a distancia moderada las piezas que contiene el lugar.
- C. Manipular los objetos y piezas con mucha precaución.

5. ¿En cuál de las siguientes imágenes está representado un símbolo patrio de El Salvador?


A.



B.

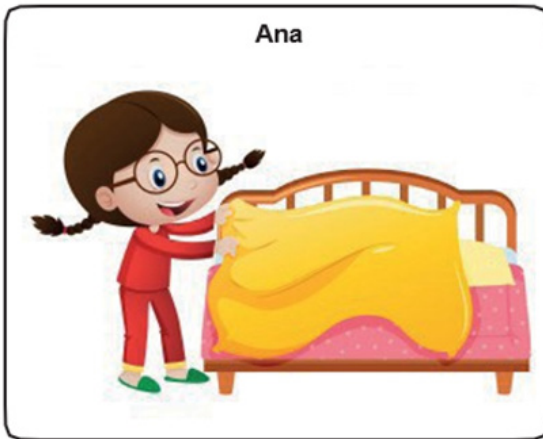


C.



6. Observa las siguientes imágenes de Ana y Carlos.

Ana



Carlos



¿Por qué es importante que las niñas y los niños se involucren en los quehaceres de la casa?

- A. Porque se obedecen las órdenes que dan mamá y papá.
- B. Porque pueden ayudar haciendo tareas de menor esfuerzo.
- C. Porque todos en la familia deben ayudar por igual en las actividades.

7.



Las niñas y los niños tienen derecho a decir lo que piensan y que otras personas los escuchen.

Al practicar el derecho a la libertad de expresión las personas deben


- A. respetar la opinión de otros, aunque no estén de acuerdo.
- B. decir lo que piensan siempre, sin importar el lugar.
- C. comunicar sus ideas de manera fuerte y firme.

8.

Después de horas de estudio, las niñas y los niños deben recrearse; es decir, realizar actividades distintas que ayuden a su desarrollo físico, emocional y mental.

¿En cuál de las imágenes se observa el cumplimiento de este derecho?

A.



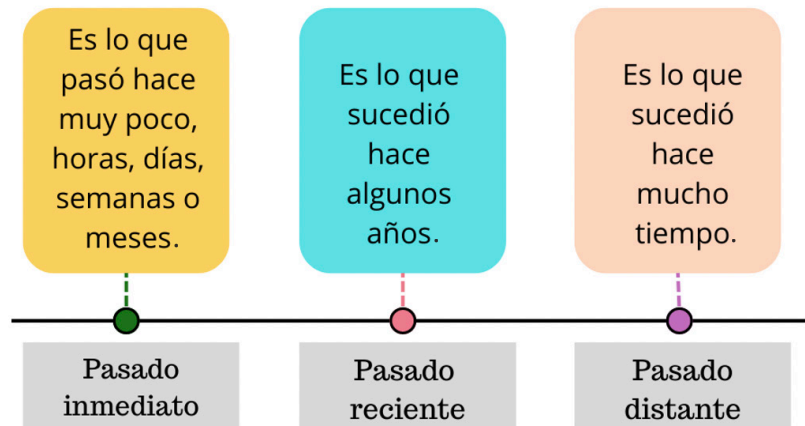
B.



C.



9. Lee la siguiente información.



José es un niño de ocho años, ¿en cuál de las siguientes actividades, describe su pasado reciente?

- A. Hace dos años mi bisabuela cumplió 100 años.
- B. Hace dos meses entregaron notas en la escuela.
- C. Hace cinco años viajé con mi familia a Guatemala.

10. Observa las imágenes, ¿cuál de ellas corresponde a un sitio arqueológico?

A. El Tazumal



B. Teatro Nacional de El Salvador



C. Volcán de Izalco




11. Las localidades cambian con el tiempo y el paisaje se modifica.

ANTES



DESPUÉS



Según las imágenes, ¿cuál es el cambio que ha tenido la localidad?

- A. La cantidad de viviendas ha aumentado y ha disminuido la población.
- B. La construcción de carreteras y uso de nuevos medios de transporte.
- C. la vegetación aumentó y las viviendas conservan su forma original.

12. Lee el siguiente caso.



Con ayuda de su mamá, Marta investigó en Internet acerca de las tortugas marinas; ella encontró que estos reptiles pueden llegar a vivir hasta 100 años.

¿Cuál es la función que cumple el medio de comunicación utilizado por Marta?

- A. Entretener, ya que la niña se distrae con otros temas.
- B. Divertir, ya que ella siempre juega al terminar sus tareas.
- C. Enseñar, ya que brinda información sobre un tema de interés.

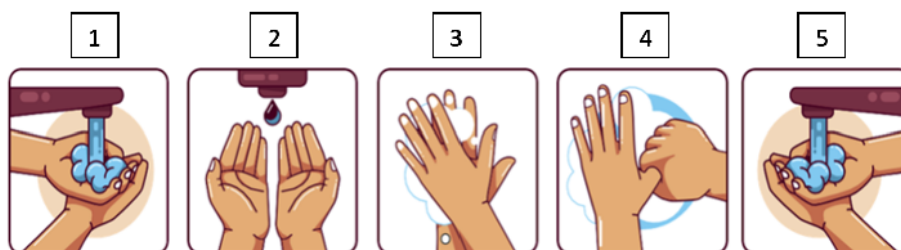
13. Lee el siguiente caso.

Matilde escuchó en la radio que sobre la carretera Panamericana un camión derramó aceite y se le pide a los automovilistas manejar con precaución por la zona.

¿Cuál es la importancia del mensaje que transmite el medio de comunicación?

- A. Educa sobre los peligros de conducir a excesiva velocidad.
- B. Informa sobre un accidente vial recomendando tener cuidado.
- C. Orienta sobre las normas para conducir moderadamente.

14. Berta vio en la televisión el paso a paso sobre el lavado de manos y decide ponerlos en práctica.



¿Cuál es la función que cumple el medio de comunicación que utiliza Berta?

- A. Entretiene a las familias con anuncios de propaganda.
- B. Indica el producto a utilizar para el lavado de manos.
- C. Genera hábitos para el cuidado de la salud.

15. De los siguientes medios de comunicación social, selecciona aquel que informa y transmite noticias, llegando en forma impresa a muchos lugares.

A.



B.



C.





16. Hoy en día, internet es un medio de comunicación social muy utilizado por personas de todas las edades.  
¿Por qué es importante que las familias supervisen el uso que hacen las niñas y los niños del Internet?

- A. Porque permite comunicarse con nuevos amigos.
- B. Porque genera cansancio al usarlo mucho tiempo.
- C. Porque podría encontrarse mensajes inadecuados.

17. Lee el siguiente caso.



Carlos estudia cuarto grado, y durante los recesos en su centro escolar juega a la pelota con sus compañeras y compañeros. Solamente que él lo hace diferente por su discapacidad.

¿En cuál de los siguientes derechos se observa la inclusión de Carlos?

- A. la recreación.
- B. la protección.
- C. la educación

18. Lee la siguiente noticia.



### Marcha contra el maltrato animal

Decenas de personas asistieron a la actividad con sus mascotas y desfilaron por las calles de Zacatecoluca.

La Asociación Peludos de Zacatecoluca realizó la tercera caminata contra el maltrato animal, denominada "No son objetos, merecen respeto". La marcha recorrió las principales calles de la ciudad para llevar un mensaje de concientización a las personas, sobre la importancia de respetar los derechos de los animales.

Adaptación: Marcha contra el maltrato animal. Extraído de: <https://n9.cl/xrphk>. Consultado: 15 de febrero 2021

¿Qué es lo que comunica la noticia?

- A. Da a conocer que hay muchas mascotas en las calles.
- B. Informa sobre un evento que ocurrió a favor de los animales.
- C. Motiva a los habitantes para adquirir animales domésticos.

19. Lee el siguiente caso.



Mateo pasa mucho tiempo sentado frente a su televisor, a él le gusta un programa con frases y contenido violento. Su mamá le dice que el programa no es adecuado para su edad, pero Mateo insiste en verlo.

La programación que ve Mateo con frecuencia tendrá efectos negativos en

- A. su comportamiento, porque se volverá desobediente.
- B. sus gustos ya que querrá pasar más tiempo solo.
- C. su capacidad para hacer amigos en la escuela.

20. Lee el siguiente caso.



### Un día con la familia Pérez

Un domingo por la mañana, Pedro sale a jugar con su papá, mientras que María, su hermana colabora con las tareas de la casa junto con su mamá.

Las responsabilidades que tienen los miembros de la familia Pérez son desiguales porque

- A. se distribuyen las tareas entre todos los miembros de la familia.
- B. se invita a la niña y al niño a realizar actividades deportivas.
- C. se asigna solamente a las mujeres los oficios de la casa.